

FOR SSC, UPSSSC, RRB, UPSI, ALL EXAM

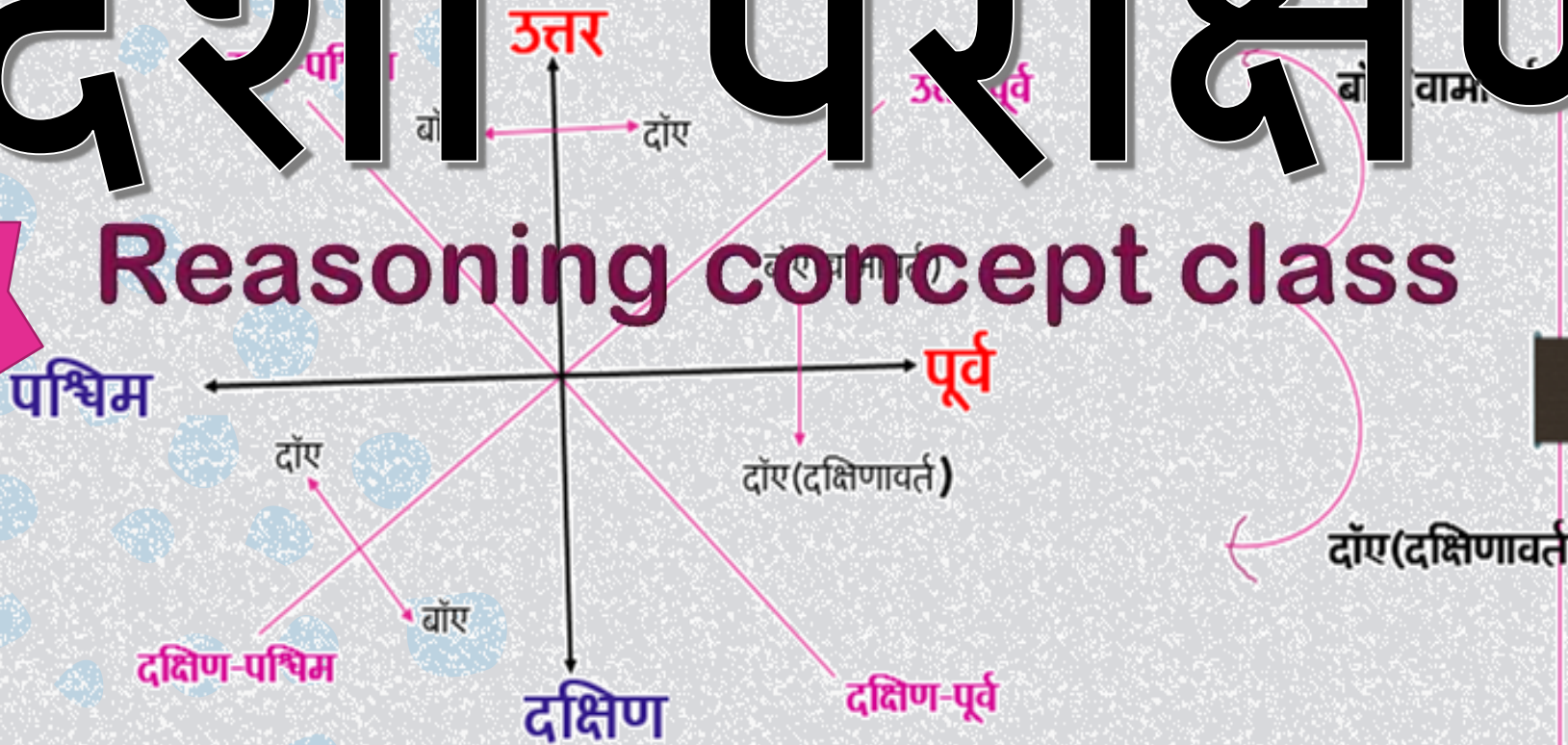
दिशा परीक्षण



PDF Download
from
Description link

1

Reasoning concept class



जीरो लेवल से हाईलेवल

4सेकण्ड में हल

कभी ऐसा तरीका नहीं देखा होगा



Ankit Sharma

FOR SSC, UPSSSC, RRB, UPSI, ALL EXAM

दिशा परीक्षण

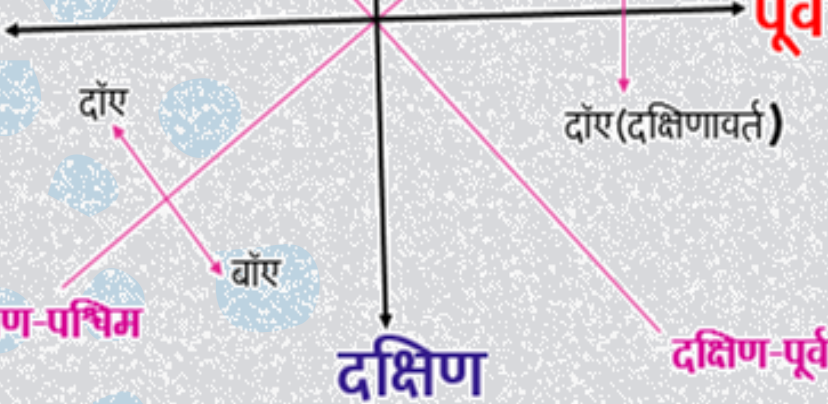


PDF Download
from
Description link

1

Reasoning concept class

पश्चिम



दोए (दक्षिणावर्त)

जीरो लेवल से हाईलेवल

4सेकण्ड में हल

कभी ऐसा तरीका नहीं देखा होगा



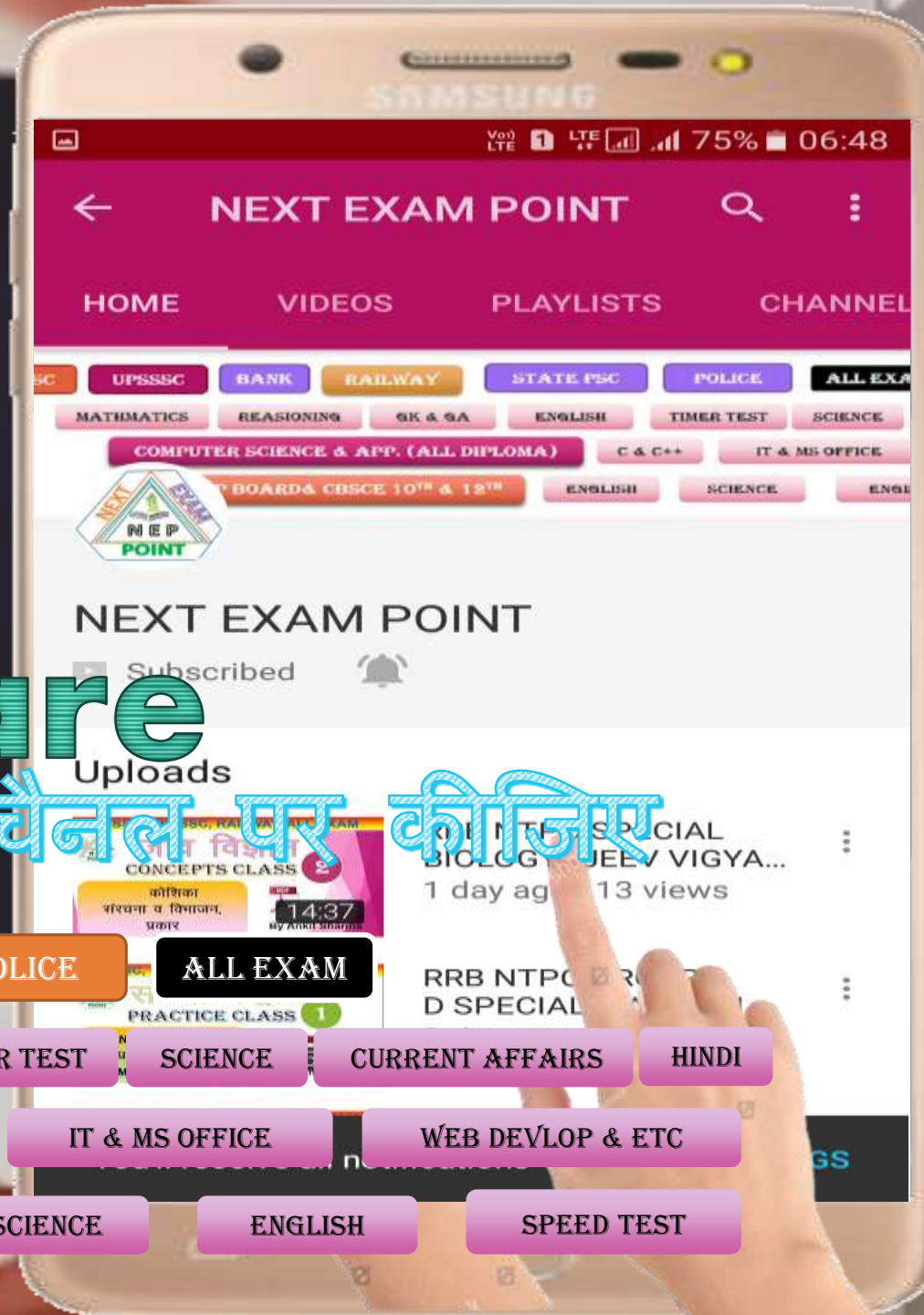
Ankit Sharma



Like & Share

इन परीक्षाओं की तैयारी हमारे चैनल पर कीजिए

- SSC
- UPSSSC
- BANK
- RAILWAY
- STATE PSC
- POLICE
- ALL EXAM
- MATHEMATICS
- REASONING
- GK & GA
- ENGLISH
- TIMER TEST
- SCIENCE
- CURRENT AFFAIRS
- HINDI
- COMPUTER SCIENCE & APP. (ALL DIPLOMA)
- C & C++
- IT & MS OFFICE
- WEB DEVLOP & ETC
- UP BOARD & CBSCE 10TH & 12TH
- ENGLISH
- SCIENCE
- ENGLISH
- SPEED TEST



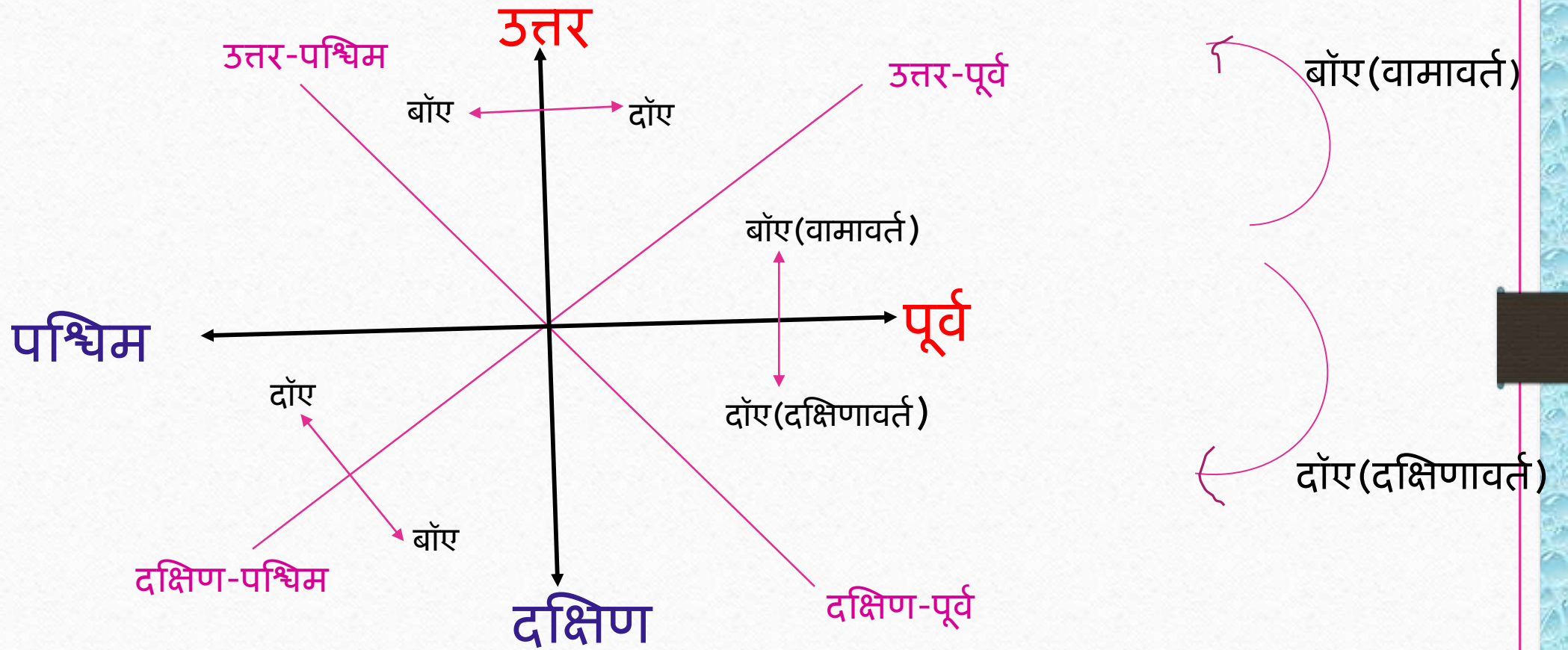


इस अध्याय को बेसिक (जीरो)
लेवल से हाई लेवल तक सीखेंगे।

संक्षिप्त विधि से।

सभी वीडियो देखने के बाद
आपके सभी कन्सेप्ट क्लीयर होंगे।
इसके बाद आप प्रैक्टिस क्लास
(टाइमर के साथ) में आप
20 सेकण्ड में हल करेंगे।
ये हमारा वादा है।

दिशा परीक्षा



Like & Subscribe

परीक्षाओं की तैयारी करने के लिए हमारे चैनल को सब्सक्राइब

प्रकार-1

1

यदि पूर्व को उत्तर कहा जाए, और उत्तर को पश्चिम तो उत्तर-पश्चिम को क्या कहा जाएगा-

(a) दक्षिण-पूर्व

(b) उत्तर-पूर्व

(c) दक्षिण

(d) उत्तर



Like &
Subscribe

पेगी परीक्षाओं की तैयारी करने के लिए हमारे चैनल को सब्सक्राइब

2

यदि उत्तर को लाल कहा जाए व दक्षिण को पीला, और पूर्व को काला व पश्चिम को नीला तो लाल-काला किस दिशा को कहा जाएगा-

(a) द.-पूर्व

(b) उ.-पूर्व

(c) द.-प.

(d) उ.-प.



Like &
Subscribe

पेगी परीक्षाओं की तैयारी करने के लिए हमारे चैनल को सब्सक्राइब

प्रकार-2

1

एक व्यक्ति पूर्व की ओर मुख करके, जा रहा है, कुछ दूरी चलने के बाद वह बांये मुड़ता है, अब उसका मुख किस दिशा की ओर है?

(a) उत्तर

(b) दक्षिण

(c) पूर्व

(d) पश्चिम



Like &
Subscribe

गेगी परीक्षाओं की तैयारी करने के लिए हमारे चैनल को सब्सक्राइब

२

राम सुबह उठकर सूर्य की ओर चलने लगा, और कुछ दूरी चलने के बाद वह अपने दाए मुड़ा और चलने लगा फिर वह दाए मुड़ा और कुछ दूरी चला, अंत में वह बाएं मुड़ा , तो बताइये वह अब किस दिशा की ओर अभिमुख हैं- विशेष जानकारी-

(a) उत्तर

(b) दक्षिण

(c) पूर्व

(d) पश्चिम



Like &
Subscribe

गेगी परीक्षाओं की तैयारी करने के लिए हमारे चैनल को सब्सक्राइब

3

अंकित शाम को सूर्य की ओर मुख करके जा रहा था, अचानक वह बाएं मुड़ता है, फिर बाएं मुड़ता है, फिर कुछ दूरी चलने के बाद वह फिर बाएं मुड़ता है, बताइये अब वह किस दिशा की ओर अभिमुख हैं-

(a) दक्षिण

(b) पूरब

(c) उत्तर

(d) पश्चिम



इस वीडियो की पीडीएफ को लिंक या www.nextexampoint.wordpress.com



4

राम अपने घर से दक्षिण की ओर मुख करके चला, कुछ दूरी चलने के बाद वह पूर्व की ओर मुड़ गया, फिर कुछ चलने के बाद वह अपने बाएँ मुड़ गया तो बताइये अब वह किस दिशा की ओर अभिमुख है-

(a) पूर्व

(b) पश्चिम

(c) दक्षिण

(d) उत्तर



Like &
Subscribe

पेगी परीक्षाओं की तैयारी करने के लिए हमारे चैनल को सब्सक्राइब

प्रकार-3

1

अनुज शुबह अपने घर से पूर्व की ओर 5किमी चलता है, फिर अपने दाए मुडता है, और 5किमी चलकर, फिर दाए मुडता है, और 5किमी चलता है, तो वह अब अपने घर से किस दिशा की ओर है-

(a) दक्षिण

(b) उत्तर

(c) पूर्व

(d) पश्चिम



Like &
Subscribe

गेगी परीक्षाओं की तैयारी करने के लिए हमारे चैनल को सब्सक्राइब

२

अजय और अनुज एक पेड़ के नीचे बैठे हैं, यदि अजय पूर्व की ओर 7 किमी चलता है, और अनुज 7किमी दक्षिण की ओर चलता हैं, तो अब अनुज, अजय से किस दिशा में हैं-

(a) उत्तर-पश्चिम

(b) दक्षिण-पश्चिम

(c) उत्तर-पूर्व

(d) दक्षिण-पूर्व



Like &
Subscribe

पेगी परीक्षाओं की तैयारी करने के लिए हमारे चैनल को सब्सक्राइब

3

राम का घर श्याम के घर से उत्तर की ओर है, तथा विष्णु का घर श्याम के घर से पूर्व की ओर हैं, तो विष्णु का घर , राम के घर से किस दिशा में हैं-

(a) पूर्व

(b) पश्चिम

(c) दक्षिण -पूर्व

(d) उत्तर-पश्चिम



Like &
Subscribe

पेगी परीक्षाओं की तैयारी करने के लिए हमारे चैनल को सब्सक्राइब

प्रकार-4

2

राम घर से बाजार जा रहा था, वह घर से उत्तर की ओर 7किमी चला फिर बाएं मुड़ा व 11 किमी चला तथा फिर बाएं मुड़ा और 7किमी चलकर बाजार पहुंचा तो बताइये घर से बाजार कितनी दूरी व दिशा में हैं-

(a) 11किमी, पूर्व

(b) 11किमी, पश्चिम

(c) 7किमी, उत्तर

(d) 7किमी, दक्षिण



Like &
Subscribe

पेगी परीक्षाओं की तैयारी करने के लिए हमारे चैनल को सब्सक्राइब

1

मोहन शुबह उठकर सूर्य की ओर 4किमी चलता है, फिर वह अपने बाएं मुडकर 3किमी चलता है, तो बताइये कि मोहन अब प्रारंभिक स्थान से कितनी दूर है-

(a) 5किमी

(b) 2किमी

(c) 7किमी

(d) 10किमी



Like &
Subscribe

पेगी परीक्षाओं की तैयारी करने के लिए हमारे चैनल को सब्सक्राइब

FOR SSC, UPSSSC, RRB, UPSI, ALL EXAM

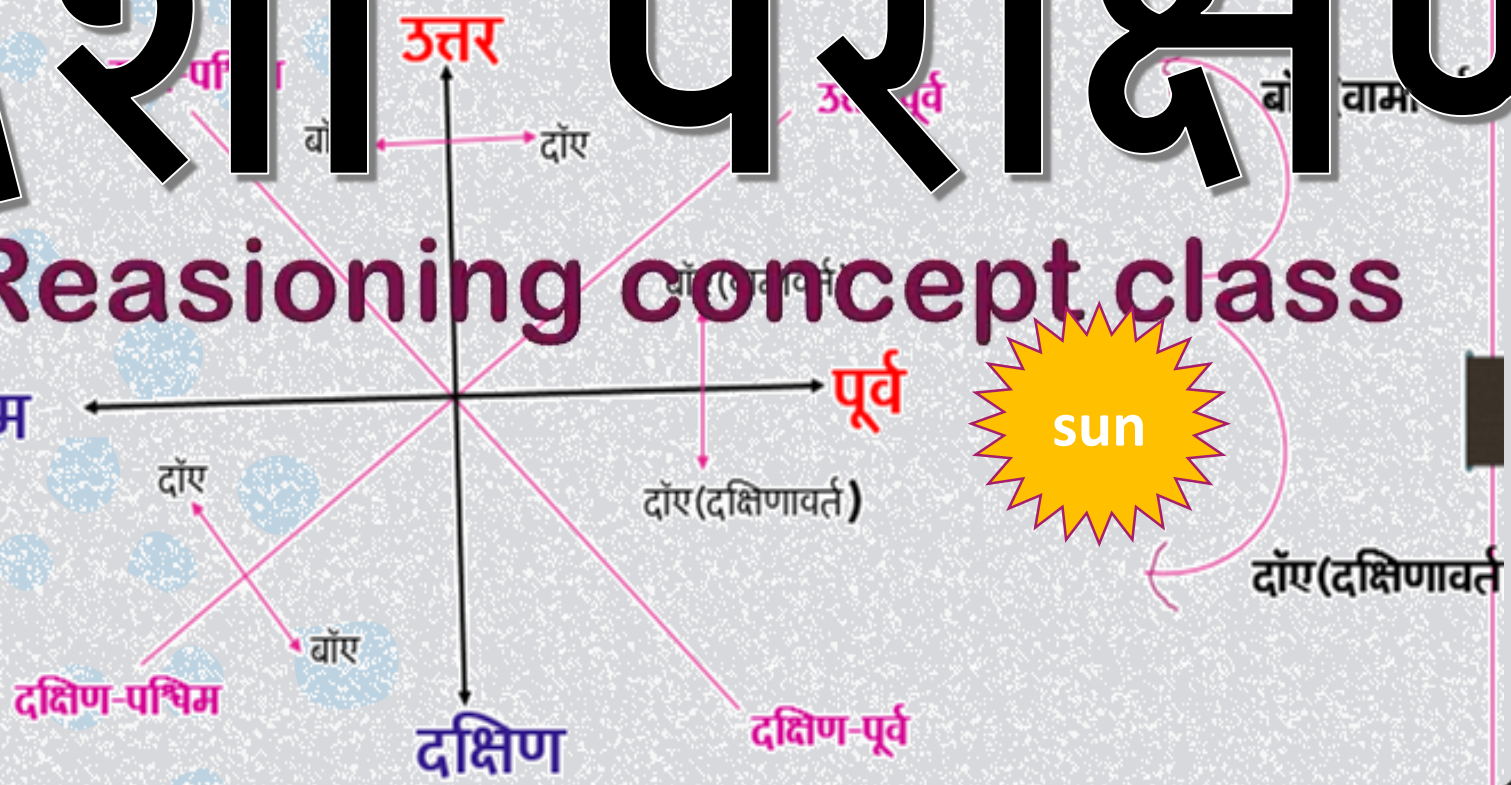
दिशा परीक्षण



PDF Download
from
Description link

2

Reasoning concept class



जीरो लेवल से हाईलेवल

4सेकण्ड में हल

कभी ऐसा तरीका नहीं देखा होगा



Ankit Sharma

BY ANKIT SHARMA

Welcome to next exam point

RAILWAY

SSC

UP SI

POLICE

BANK

COMPUTER

STATE PSC

Please
Subscribe

UP BOARD

UPSSSC

www.nextexampoint.wordpress.com